

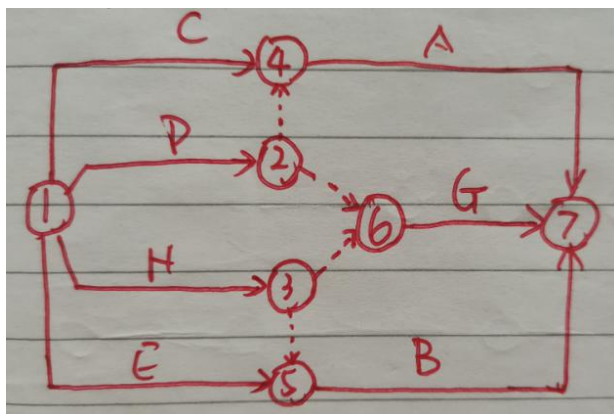
## 参考答案

习题

1、

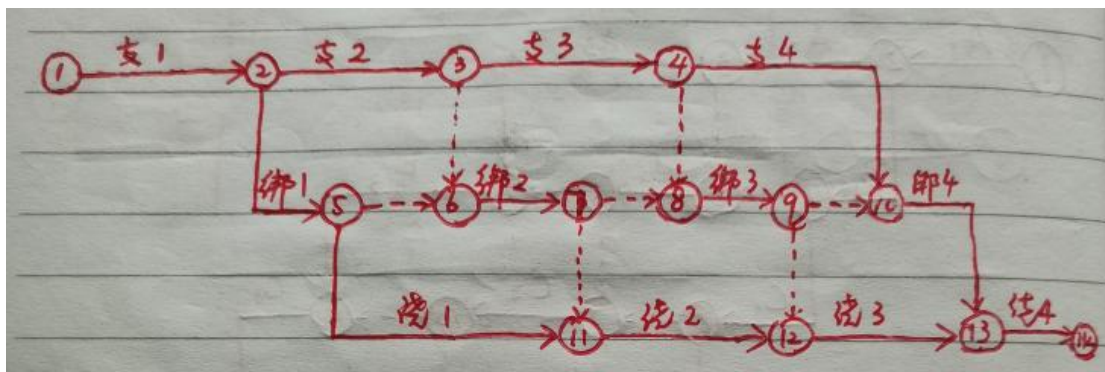
- (a) 错误之处：(1) 两个起点节点；(2) 两个终点节点；(3) 循环回路。  
 (b) 错误之处：(1) A、B 工作节点编号重复；(2) F 工作没有箭尾节点。

2、双代号网络图：

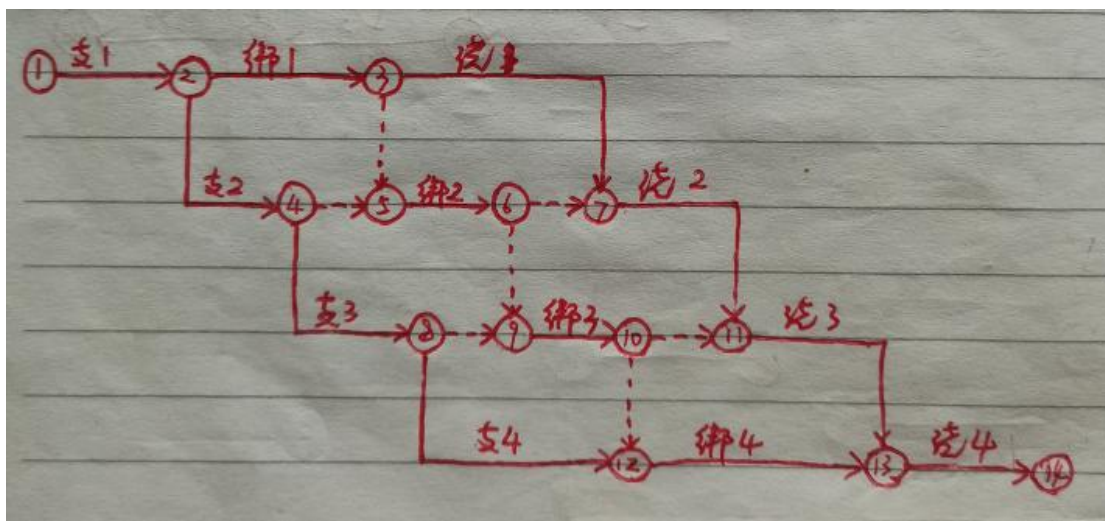


3、

(1) 按工种排列的双代号网络图



(2) 按施工段排列的双代号网络图



岗位（执业）资格考试真题

**单选题 参考答案**

题号	1	2	3	4	5	6	7	8	9	10
答案	B	D	C	C	D	D	B	D	C	A
题号	11	12	13	14	15	16	17	18	19	20
答案	A	B	C	C	C	A	A	D	D	C
题号	21	22	23	24	25	26	27	28	29	30
答案	B	A	C	A	C	B	B	C	A	A
题号	31	32	33	34	35	36	37	38	39	40
答案	A	B	D	D	A	C	C	C	B	B
题号	41	42	43	44	45	46	47	48	49	50
答案	C	B	B	C	C	C	A	D	C	B
题号	51	52								
答案	A	C								

**多选题 参考答案**

题号	1	2	3	4	5
答案	ABC	ABD	ACD	ABCE	AB
题号	6	7	8	9	10
答案	AC	AD	AB	BC	ACD
题号	11	12			
答案	BCD	BCE			

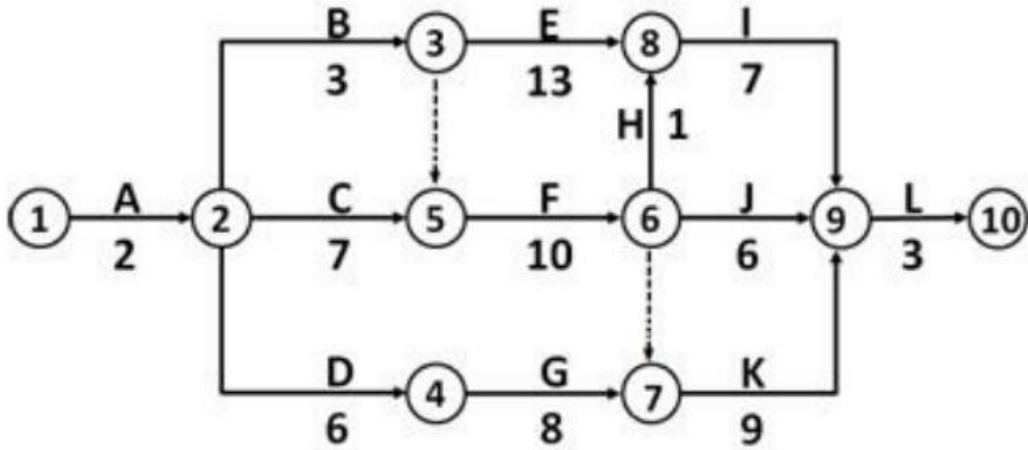
**案例题**

1、

(1)

关键线路为： $A \rightarrow C \rightarrow F \rightarrow H \rightarrow I \rightarrow L$ ，总工期为  $2+7+10+1+7+3=30$ （周）

(2)



调整后关键线路为  $A \rightarrow C \rightarrow F \rightarrow K \rightarrow L$  网络计划工期为 31 周。

2、

(1) 变化的逻辑关系： $④ \rightarrow ⑥$ ， $⑦ \rightarrow ⑧$ （2分）

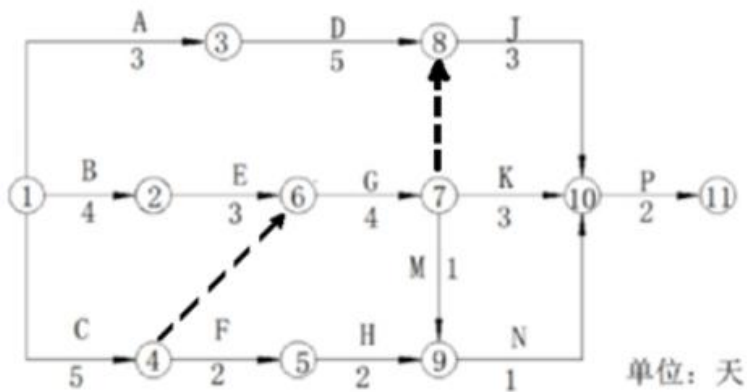


图2 社区活动中心施工进度计划（部分）

(2)  $4+3+4+3+2=16$  天；关键线路： $B \rightarrow E \rightarrow G \rightarrow J \rightarrow P$  和  $B \rightarrow E \rightarrow G \rightarrow K \rightarrow P$ （3分）